

1 Which Sign denotes "Compulsory Cycle Track" ?

कौनसा चिन्ह बताता है कि यह रास्ता साईकिल के लिये ही है ?



Answer = 1

2 Which Sign denotes "Cycle Crossing" ?


कौनसा चिन्ह बताता है कि आगे साईकिल क्रॉसिंग है ?



Answer = 1

3 Which Sign denotes "Major Road Ahead" ?

कौनसा चिन्ह बताता है कि आगे मुख्य सड़क है ?



Answer = 3

4 Which Sign denotes "Trucks are Prohibited" ?

कौनसा चिन्ह बताता है कि ट्रकों का प्रवेश वर्जित है ?



Answer = 1

5 Which Sign denotes "T-Intersection" ?

कौनसा चिन्ह बताता है कि आगे सड़क पर तिराहा है ?



Answer = 3

6 Which Sign denotes "Left Hand Curve" ?

कौनसा चिन्ह बताता है कि बायीं तरफ का मोड़ है ?



Answer = 3

7 In case of an accident, which knowledge of yours can be helpful to the injured person ?

दुर्घटना की स्थिति में आपकी कौनसी जानकारी दुर्घटनाग्रस्त व्यक्ति के लिए सहायताप्रद हो सकती है ?

- | | | |
|---|-------------------|----------------|
| 1 | Vehicle Repairing | वाहन मरम्मत |
| 2 | First -Aid | प्राथमिक उपचार |
| 3 | Legal Help | वैधानिक सहायता |
| 4 | Police Help | पुलिस सहायता |

Answer = 2

8 Which Sign denotes "Right Turn Prohibited " ?

कौनसा चिन्ह बताता है कि दाहिनी ओर मुड़ना निषेध है ?



Answer = 2

9 Near a pedestrian crossing, when the pedestrian are waiting to cross the road, you should:-

एक पैदल पारपथ के निकट जब पदयात्री पथ पार करने के लिए प्रतीक्षारत हों तब आप :-

- | | | |
|---|---|---|
| 1 | Sound horn and proceed. | हॉर्न देकर आगे बढ़ेंगे |
| 2 | Slow down the speed, sound horn and proceed. | गति कम करते हुए हॉर्न देकर आगे बढ़ेंगे |
| 3 | Stop the vehicle and wait till the pedestrians cross the road and then proceed. | वाहन रोककर तब तक प्रतीक्षा करेंगे, जब तक पदयात्री पथ पार न कर लें |
| 4 | None of above. | इनमें से कोई नहीं |

Answer = 3

10 Dipping your lights is necessary when :-

आपके वाहन से लाईट का डिप्पर देना आवश्यक है :-

- | | | | |
|---|---------------------------|-------------------------------|------------|
| 1 | You want to overtake. | जब आप ओवरटेक करना चाह रहे हो। | |
| 2 | It is foggy. | जब धुंध हो रही हो। | |
| 3 | Overtaking permitted. | ओवरटेकिंग की अनुमति है। | |
| 4 | Overtaking not permitted. | ओवरटेकिंग की अनुमति नहीं है। | Answer = 2 |


11 The colour of number plate of commercial vehicle is :-

व्यावसायिक वाहन की नम्बर प्लेट का रंग होता है :-

- | | | | |
|---|---|--|------------|
| 1 | Yellow background with black letter & number. | पीली पृष्ठभूमि पर काले रंग के अक्षर व अंक। | |
| 2 | Black backgroud with yellow letter & number. | काली पृष्ठभूमि पर पीले रंग के अक्षर व अंक। | |
| 3 | White background with black letter & number. | सफेद पृष्ठभूमि पर काले रंग के अक्षर व अंक। | |
| 4 | Black backgroud with white letter & number. | काली पृष्ठभूमि पर सफेद रंग के अक्षर व अंक। | Answer = 1 |

12 This sign represents :-


यह चिन्ह प्रदर्शित करता है :-

- | | | | |
|---|------------------|------------------------|---|
| 1 | No Entry | प्रवेश निषेध है। |  |
| 2 | One Way | एक तरफा रास्ता है। | |
| 3 | Speed Limit Ends | गति सीमा खत्म होती है। | |
| 4 | None of above | इनमें से कोई नहीं | |

Answer = 2

13 This sign represents :-

यह चिन्ह प्रदर्शित करता है :-

- | | | | |
|---|----------------------------|------------------------|---|
| 1 | Narrow Road Ahead. | आगे रास्ता सकड़ा है। |  |
| 2 | Narrow Bridge Ahead. | आगे सकड़ा पुल है। | |
| 3 | Roads On Both Sides Ahead. | आगे दोनों ओर मार्ग है। | |
| 4 | No Entry | प्रवेश निषेध है। | |

Answer = 1

14 This sign represents :-

यह चिन्ह प्रदर्शित करता है :-

- | | | |
|---|--|--|
| 1 | Not to stop the vehicle. | यहाँ वाहन रोकना मना है। |
| 2 | Crossing ahead. | आगे चौराहा है। |
| 3 | Un-guarded level crossing (50-100 meters). | आगे बिना फाटक की रेल्वे क्रॉसिंग (50-100 मीटर) है। |
| 4 | None of above. | इनमें से कोई नहीं। |



Answer = 3

- 15 If you find green light and pedestrian are crossing the road should you stop the vehicle ?

यदि बत्ती हरी हो, लेकिन पैदल-पार-पथ पर लोग सड़क पार कर रहे हो तो गाड़ी रोकनी चाहिए ?

- | | | |
|---|----------------|--------------------|
| 1 | Yes | हाँ। |
| 2 | No | नहीं। |
| 3 | None of above. | इनमें से कोई नहीं। |
| 4 | May be stop | रोक सकते है। |

Answer = 1

- 16 Which Sign denotes "Compulsory Sound Horn" ?

कौनसा चिन्ह बताता है कि आवश्यक रूप से हॉर्न बजाना है ?



Answer = 3

- 17 Which Sign denotes "School Ahead" ?

कौनसा चिन्ह बताता है कि आगे विद्यालय है ?



Answer = 4

- 18 Which Sign denotes "Parking this side" ?

कौनसा चिन्ह बताता है कि इस ओर पार्किंग कर सकते है ?



Answer = 4

19 Which Sign denotes "Overtaking is Prohibited" ?

कौनसा चिन्ह बताता है कि ओवरटेकिंग निषेध है ?



Answer = 1

20 Which Sign denotes "Slippery Road" ?

कौनसा चिन्ह बताता है कि आगे फिसलन वाली सड़क है ?



Answer = 1

21 Which Sign denotes "Right Reverse Bend" ?

कौनसा चिन्ह बताता है कि दायीं ओर उल्टा घुमाव है ?



Answer = 1

22 Which Sign denotes "Axle Load Limit" ?

कौनसा चिन्ह एक्सल भार की सीमा बताता है ?



Answer = 3

23 Which Sign denotes "Road Widens Ahead" ?

कौनसा चिन्ह बताता है कि आगे सड़क चौड़ी है ?



Answer = 1

24 Which Sign denotes "Guarded Railway Crossing 200 Meters" ?

कौनसा चिन्ह बताता है कि फाटक वाला रेल्वे क्रॉसिंग 200 मीटर की दूरी पर है ?



Answer = 4

25 This sign represents :-

यह चिन्ह प्रदर्शित करता है :-

- | | | |
|---|----------------------|-------------------------|
| 1 | Narrow Road Ahead. | आगे का रास्ता सकड़ा है। |
| 2 | Y- Intersection. | वाई इन्टरसेक्शन है। |
| 3 | Wide Road Ahead. | आगे का रास्ता चौड़ा है। |
| 4 | Narrow Bridge Ahead. | आगे तंग पुल है। |



Answer = 3

26 Which traffic light should lit after green :-

हरी बत्ती के बाद कौनसी लाईट जलती है :-

- | | | |
|---|--------|---------|
| 1 | Red | लाल। |
| 2 | Blue | नीली। |
| 3 | Yellow | पीली। |
| 4 | Orange | नारंगी। |

Answer = 3

27 You can overtake a vehicle :-

आप किसी वाहन को आवेरटेक कर सकते है :-

- | | | |
|---|--|-----------------------------|
| 1 | From the right side of that vehicle. | उस वाहन की दाहिनी ओर से। |
| 2 | Through the left side of that vehicle. | उस वाहन की बायीं ओर से। |
| 3 | Through the any side of that vehicle. | वाहन की किसी भी ओर से। |
| 4 | Not from any side of that vehicle. | वाहन की किसी भी ओर से नहीं। |

Answer = 1

28 Red traffic light indicates :-

लाल यातायात बत्ती संकेत करती है :-

- | | | |
|---|-----------------------------------|-----------------------------|
| 1 | Vehicle can proceed with caution. | सावधानी रखते हुए आगे बढ़ें। |
| 2 | Stop the vehicle. | वाहन रोकें। |
| 3 | Slow down. | वाहन की गति कम करें। |
| 4 | Do not stop the vehicle. | वाहन नहीं रोकें। |

Answer = 2

29 This sign represents :-

यह चिन्ह प्रदर्शित करता है :-

- | | | |
|---|-------------------|--------------------|
| 1 | Ferry Ahead. | आगे नाँव मार्ग है। |
| 2 | Major Road Ahead. | आगे मुख्य सड़क है। |
| 3 | No Through Road. | आगे सड़क बन्द है। |
| 4 | None Of Above. | इनमें से कोई नहीं। |



Answer = 3

30 This sign represents :-

यह चिन्ह प्रदर्शित करता है :-

- | | | |
|---|-----------------------------------|---------------------------------------|
| 1 | May turn to left. | बायें मुड़ सकते है। |
| 2 | Compulsory go ahead or turn left. | आगे जाना या बायें मुड़ना अनिवार्य है। |
| 3 | Side road left. | बायें ओर सड़क है। |
| 4 | Compulsory Turn Right | दायें मुड़ना अनिवार्य है। |



Answer = 3

31 Which Sign denotes "Compulsory Turn Right" ?

कौनसा चिन्ह बताता है कि आगे दायें मुड़ना अनिवार्य है ?



Answer = 2

32 Which Sign denotes "Men at Work" ?

कौनसा चिन्ह बताता है कि सड़क पर आदमी काम कर रहे है ?



Answer = 1

33 Which Sign denotes "Compulsory Left Turn Ahead" ?

कौनसा चिन्ह बताता है कि आगे बायें ओर मुड़ना अनिवार्य है ?



Answer = 1

34 Which Sign denotes "Pedestrians Prohibited" ?

कौनसा चिन्ह बताता है कि पैदल चलना मना है ?



Answer = 3

35 Which Sign denotes "U-Turn Prohibited" ?

कौनसा चिन्ह बताता है कि वापस मुड़ना या यू टर्न मना है ?



Answer = 3

36 Which Sign denotes "Left Reverse Bend" ?

कौनसा चिन्ह बताता है कि बायीं ओर उल्टा घुमाव है ?



Answer = 4

37 Which Sign denotes "Bus Stop" ?

कौनसा चिन्ह बताता है कि बस स्टेण्ड है ?



Answer = 1

38 Which Sign denotes "Width Limit" ?

कौनसा चिन्ह चौड़ाई की सीमा बताता है ?



Answer = 2

39 Which Sign denotes "Unguarded Railway Crossing 50-100 Meters" ?

कौनसा चिन्ह बताता है कि बिना फाटक वाला रेल्वे क्रॉसिंग 50—100 मीटर की दूरी पर है ?



Answer = 1

40 You can talk on mobile while driving any vehicle

जब आप कोई वाहन चला रहे हैं, तो आप मोबाइल पर बात करेंगे

- 1 Yes हाँ ।
 - 2 No नहीं ।
 - 3 You can talk after slowing down your vehicle. आप वाहन को धीरे करने के बाद बात करेंगे ।
 - 4 You can talk if there is less traffic. यदि वहाँ यातायात का दबाव कम हो तो ।
- Answer = 2

41 In case of an accident, to seek a "Emergency Ambulance", you should dial :-

किसी दुर्घटना के घटित होने पर "आपातकालीन एम्बुलेन्स" के लिए आप डायल करेंगे :-

- 1 108 108
 - 2 101 101
 - 3 100 100
 - 4 180 180
- Answer = 1

42 This sign represents :-

यह चिन्ह प्रदर्शित करता है :-

- | | | |
|---|--------------------------|---------------------------|
| 1 | Right Turn Prohibited | दायीं ओर मुड़ना मना है । |
| 2 | Sharp Curve To The Right | दायीं ओर तीव्र घुमाव है । |
| 3 | U-Turn Prohibited | यू टर्न निषेध है । |
| 4 | Overtaking Prohibited | ओवरटेकिंग निषेध है । |



Answer = 3

43 This sign represents :-

यह चिन्ह प्रदर्शित करता है :-

- | | | |
|---|-------------------|--------------------------|
| 1 | Restriction Ends. | निषेध समाप्त हो गये है । |
| 2 | No Entry. | प्रवेश निषेध है । |
| 3 | No Overtaking. | ओवरटेकिंग निषेध है । |
| 4 | All are correct. | सभी सही है । |



Answer = 2

44 This sign represents :-

यह चिन्ह प्रदर्शित करता है :-

- | | | |
|---|---------------------------------|------------------------------|
| 1 | No Entry Ahead. | आगे जाना मना है । |
| 2 | T-Intersectin/Major Road Ahead. | आगे तिराहा / मुख्य सड़क है । |
| 3 | Narrow Bridge Ahead. | आगे तंग पुल है । |
| 4 | All are correct. | सभी सही है । |



Answer = 2

45 This sign represents :-

यह चिन्ह प्रदर्शित करता है :-

- | | | |
|---|--------------------------|---------------------------|
| 1 | Sound Horn Compulsory. | हॉर्न बजाना अनिवार्य है । |
| 2 | Sound Horn Continuously. | लगातार हॉर्न दीजिए । |
| 3 | Horn Prohibited. | हॉर्न बजाना निषेध है । |
| 4 | Horn Allowed. | हॉर्न बजा सकते है । |



Answer = 1

46 Which Sign denotes "Load Limit" ?

कौनसा चिन्ह भार की सीमा बताता है ?



Answer = 1

47 Which Sign denotes "Falling Rocks" ?

कौनसा चिन्ह बताता है कि आगे पहाड़ी से पत्थर गिरते हैं ?



Answer = 1

48 Which Sign denotes "First-Aid Post" ?

कौनसा चिन्ह बताता है कि आगे प्राथमिक उपचार केन्द्र है ?



Answer = 2

49 Which Sign denotes "Left Turn Prohibited" ?


कौनसा चिन्ह बताता है कि बायें जाना मना है ?



Answer = 4

50 Which Sign denotes "Stop" ?

कौनसा चिन्ह बताता है कि रुकना है ?



Answer = 2

51 Which Sign denotes "Side Road Right" ?

कौनसा चिन्ह बताता है कि बाजू का दायां मोड़ है ?



Answer = 2

52 Which Sign denotes "Resting Place" ?

कौनसा चिन्ह बताता है कि आराम स्थल है ?



Answer = 2

53 Which Sign denotes "Compulsory Keep Left" ?

कौनसा चिन्ह बताता है कि बायीं ओर चलना बाध्यकारी है ?



Answer = 3

54 Validity of Learners Licence is :-

एक प्रशिक्षु लाईसैन्स की वैधता रहती है :-

- | | | |
|---|--|--|
| 1 | Till the driving licence is obtained. | जब तक कि वाहन चालन लाईसैन्स प्राप्त न हो जावे |
| 2 | Upto 6 months from the date of issue of Leaners License. | लर्निंग लाईसैन्स जारी होने की दिनांक से 6 महीनों तक के लिए |
| 3 | Upto 120 days from the date of issue of Leaners License. | लर्निंग लाईसैन्स जारी होने की दिनांक से 120 दिन के लिए |
| 4 | Upto 30 days from the date of issue of Leaners License. | लर्निंग लाईसैन्स जारी होने की दिनांक से 30 दिन के लिए |

Answer = 2

55 While you driving at night on city roads, keep your head-light on a :-

जब आप रात को शहर में वाहन चला रहे हो, तो आपके वाहन की हैड लाईट होगी :-

- | | | |
|---|----------------------|--------------------------|
| 1 | Low beam | लो बीम। |
| 2 | High beam | हाई बीम। |
| 3 | Swich off all lights | सभी लाईटे बन्द कर देंगे। |
| 4 | Swich on all lights | सभी लाईटे चालू कर देंगे। |

Answer = 1

56 Driving License is valid :-

ड्राइविंग लाईसैन्स की वैधता होती है :-

- 1 Through out the country. पूरे देश में।
- 2 In that particular state only. केवल उसी राज्य में।
- 3 In that particular district only. केवल उसी जिले में।
- 4 In that particular region only. केवल उसी संभाग में।

Answer = 1

57 When a vehicle approaches an ungraded railway line crossing, before crossing it, the driver shall :-

जब कोई वाहन बिना किसी सुरक्षाप्रहरी वाले रेलवे लाईन क्रॉसिंग के निकट हो, तो रेलवे लाईन पार करने से पूर्व वाहन चालक को :-

- 1 Stop the vehicle on the left side of the road, get down from the vehicle, go to the railway track, and ensure that no train or trolley is coming from both sides. वाहन को मार्ग के बायीं ओर रोकेंगे, वाहन से उतर कर यह सुनिश्चित करेंगे कि दोनों ओर से कोई रेल या ट्रॉली तो नहीं आ रही है।
- 2 Sound horn and cross the track as fast as possible. हॉर्न देकर रेलवे क्रॉसिंग को शीघ्रता से पार करने का प्रयास करेंगे।
- 3 Wait till the train passes. रेल के गुजरने तक प्रतीक्षा करेंगे।
- 4 None of above इनमें से कोई नहीं।

Answer = 1

58 If there is a yellow light on the road crossing what will you do ?

आप की गाड़ी चौराहे की तरफ जा रही है, वहाँ पीले रंग की बत्ती जल रही है, आप क्या करेंगे ?

- 1 Slow down the vehicle and Carefully move ahead. वाहन की गति धीमी करेंगे एवं सावधानी पूर्वक आगे बढ़ेंगे।
- 2 Stop the vehicle and wait for green signal. वाहन को रोक देंगे एवं हरी बत्ती होने तक इन्तजार करेंगे।
- 3 Shall not change the speed and go ahead with shouting horn. इसी रफ्तार से हॉर्न बजाते हुए आगे बढ़ते रहेंगे।
- 4 You shall do nothing from above. इनमें से कुछ नहीं करेंगे।

Answer = 2

59 This sign represents :-

यह चिन्ह प्रदर्शित करता है :-

- 1 Right Reverse Band दायीं ओर उल्टा घुमाव है।
- 2 Left Reverse Band बायीं ओर उल्टा घुमाव है।



- 3 Road Closed Ahead. आगे रास्ता बन्द है।
 4 None of Above. इनमें से कोई नहीं।



Answer = 1

60 This sign represents :-

यह चिन्ह प्रदर्शित करता है :-

- 1 Turn to left prohibited बायें मुड़ना निषेध है।
 2 Compulsory turn right दायें मुड़ना अनिवार्य है।
 3 Turn to right prohibited दायें मुड़ना निषेध है।
 4 Compulsory turn left बायें मुड़ना अनिवार्य है।



Answer = 2

61 Which Sign denotes "Compulsory Ahead Only" ?

कौनसा चिन्ह बताता है कि आगे सीधे ही जाना है ?



Answer = 4

62 Which Sign denotes "Cross Road" ?

कौनसा चिन्ह बताता है कि आगे चौराहा है ?



Answer = 3

63 Which Sign denotes "Light Refreshment" ?

कौनसा चिन्ह बताता है कि आगे अल्पाहार मिलता है ?



Answer = 1

64 Which Sign denotes "Horns prohibited" ?

कौनसा चिन्ह बताता है कि हॉर्न बजाना मना है ?



Answer = 3

65 Which Sign denotes "Give Way" ?

कौनसा चिन्ह बताता है कि रास्ता दीजिए ?



Answer = 1

66 Which Sign denotes "Side Road Left" ?

कौनसा चिन्ह बताता है कि बाजू का बायां मोड़ है ?



Answer = 1

67 Which Sign denotes "Y Intersection" ?

कौनसा चिन्ह बताता है कि वाई क्रासिंग है ?



Answer = 4

68 Which Sign denotes Auto Rickshaw Parking ?

कौनसा चिन्ह बताता है कि ऑटोरिक्शा पार्किंग है ?



Answer = 2

69 The hand brake is to be used :-

हैण्ड ब्रेक का प्रयोग किया जाता है :-

- 1 To reduce the speed. गति सीमा का कम करने के लिए।
- 2 To apply sudden brake. अचानक ब्रेक लगाने के लिए।
- 3 To park a vehicle. वाहन को कहीं खड़ा करने के लिए।
- 4 None of Above. इनमें से कोई नहीं।

Answer = 3

70 Blinking yellow traffic light means :-

पीली ट्रैफिक लाईट का जलने एवं बुझने का अर्थ है :-

- 1 Stop the vehicle till green light glows. हरी लाईट जलने तक वाहन को रोकेगें।
- 2 Stop the vehicle and proceed if safe. वाहन को रोक कर, सावधानी से आगे बढ़ेगे।
- 3 Reduce speed of the vehicle and proceed safely. वाहन की गति कम करके, सावधानी से आगे बढ़ेगे।
- 4 Increase speed of the vehicle and proceed safely. वाहन की गति बढ़ाकर, सावधानी से आगे बढ़ेगे।

Answer = 3

71 You can apply for a Driving licence :-

आप ड्राइविंग लाईसैन्स के लिए आवेदन कर सकते हैं :-

- 1 After 30 days from the date of issue of learner's licence but with in 6 months. लर्निंग लाईसैन्स जारी होने के 30 दिन उपरान्त, किन्तु 6 माह में।
- 2 After 60 days from the date of issue of learner's licence but with in 6 months. लर्निंग लाईसैन्स जारी होने के 60 दिन उपरान्त, किन्तु 6 माह में।
- 3 After 90 days from the date of issue of learner's licence but with in 6 months. लर्निंग लाईसैन्स जारी होने के 90 दिन उपरान्त, किन्तु 6 माह में।
- 4 After 120 days from the date of issue of learner's licence but with in 6 months. लर्निंग लाईसैन्स जारी होने के 120 दिन उपरान्त, किन्तु 6 माह में।

Answer = 1

72 This sign represents :-

यह चिन्ह प्रदर्शित करता है :-

- 1 Pedestrian Crossing. पदयात्री पार पथ है।
- 2 School Ahead. आगे विद्यालय है।
- 3 Pedestrian Prohibited. पदयात्री निषेध।



4 Hospital Ahead. आगे अस्पताल है। Answer = 1

73 Your vehicle met an accident some one injured what should you do ?

आपके वाहन से किसी को चोट लग गई है, तो आप इनमें से क्या करेंगे ?

- 1 Inform to police. पुलिस को सूचना देंगे।
- 2 Carry the injured to hospital and inform to police. घायल को अस्पताल पहुँचा कर पुलिस को सूचना देंगे।
- 3 Carry the injured to hospital and not inform to police. घायल को अस्पताल पहुँचा कर पुलिस को सूचना नहीं देंगे।
- 4 None of above. इनमें से कुछ नहीं। Answer = 2

74 Can three person travel on two wheeler ?

दुपहिया वाहन पर तीन सवारी चल सकती है।

- 1 Yes हाँ।
- 2 No नहीं।
- 3 Yes, if they wear helmate. हाँ, यदि उन्होंने हेलमेट पहन रखा हो।
- 4 None of above. इनमें से कुछ नहीं। Answer = 2

75 This sign represents :-

यह चिन्ह प्रदर्शित करता है :-

- 1 End of restriction. अंकुश समाप्त हो चुके है।
- 2 Do not Stop ठहरिये नहीं।
- 3 No Parking. वाहन खड़ा करना मना है।
- 4 No Entry प्रवेश निषेध।



Answer = 3

76 Which Sign denotes "Narrow Road Ahead" ?

कौनसा चिन्ह बताता है कि आगे सड़क संकड़ी है ?



Answer = 1

77 Which Sign denotes "Ferry" ?

कौनसा चिन्ह बताता है कि आगे नाँव मार्ग है ?



Answer = 1

78 Which Sign denotes "Unguarded Railway Crossing 200 Mtr. Ahead" ?

कौनसा चिन्ह बताता है कि बिना फाटक की रेलवे क्रॉसिंग 200 मीटर दूर है ?



Answer = 3

79 Which Sign denotes "No Stopping and Standing" ?

कौनसा चिन्ह बताता है कि वाहन रोकना व खडे करना मना है ?



Answer = 1

80 Which Sign denotes "Animals on Road"?

कौनसा चिन्ह बताता है कि आगे मवेशी हैं ?



Answer = 3

81 Which Sign denotes "Round About" ?

कौनसा चिन्ह बताता है कि गोल चक्र है ?



Answer = 3

82 Which Sign denotes "Right Hair Pin Bend" ?

कौनसा चिन्ह बताता है कि दायां चिमटा मोड़ है ?



Answer = 2

83 Mandatory signs are exhibited in ?

अनिवार्य सड़क चिन्ह किसमें प्रदर्शित किये जाते हैं ?



Answer = 1

84 While driving a vehicle, the driver should always keep the following document:-

जब वाहन चालक वाहन चलाये तो उसे निम्न प्रपत्र सदैव अपने साथ रखना चाहिए :-

- | | | |
|---|---------------------------------------|---|
| 1 | Original driving licence. | मूल ड्राइविंग लाइसेन्स । |
| 2 | Colour Xerox copy of driving licence. | मूल ड्राइविंग लाइसेन्स की रंगीन फोटो कॉपी । |
| 3 | Certified copy of driving licence. | मूल ड्राइविंग लाइसेन्स की सत्यापित प्रति । |
| 4 | None of above. | इनमें से कोई नहीं । |

Answer = 1

85 Yellow continuous line marked at the middle of the road indicates :-

सड़क के बीच में खिंची लगातार पीली लाईन क्या प्रदर्शित करती है :-

- | | | |
|---|---|--|
| 1 | Overtaking permitted. | ओवरटेकिंग की अनुमति है । |
| 2 | Crossing yellow line is prohibited. | पीली लाईन को पार करना प्रतिबन्धित है । |
| 3 | Driver can go on the other side of this lane. | वाहन चालक इस लाईन के पार जा सकता है । |
| 4 | Overtaking prohibited. | ओवरटेकिंग निषेध है । |

Answer = 2

86 Which Sign denotes "Guarded Railway Crossing 50-100 Meters" ?

कौनसा चिन्ह बताता है कि फाटक वाला रेल्वे क्रॉसिंग 50-100 मीटर की दूरी पर है ?



Answer = 4

87 This sign represents :-

यह चिन्ह प्रदर्शित करता है :-

- | | | |
|---|-------------------------------------|---------------------------------|
| 1 | U-Turn Prohibited. | यू-टर्न निषेध है। |
| 2 | Right Turn Prohibited. | दायें मुड़ना निषेध है। |
| 3 | Overtaking Through Left Prohibited. | बांयी ओर से ओवरटेकिंग निषेध है। |
| 4 | Left Turn Prohibited. | बायें मुड़ना निषेध है। |



Answer = 2

88 Which Sign denotes "Eating Place Ahead" ?

यह चिन्ह बताता है कि आगे खान पान की सुविधा है :-



Answer = 3

89 This signal represents :-

यह सिग्नल प्रदर्शित करता है:-

- | | | |
|---|---|---|
| 1 | To stop vehicles coming from front. | आगे से आने वाले वाहनों को रोकने के लिए। |
| 2 | To stop vehicles approaching from behind. | पीछे से आने वाले वाहनों को रोकने के लिए। |
| 3 | To stop vehicles approaching from left and wants to turn right. | बायाँ ओर से आकर दायीं तरफ मुड़ने वाले वाहनों को रोकने के लिए। |
| 4 | To stop vehicles coming from right. | दायें से आने वाले वाहनों को रोकने के लिए। |



Answer = 2

90 If an Ambulance is approaching from back side should it be given side to overtake ?

एम्बुलेंस पीछे से आर रही हो, तो उसे आगे निकलने के लिए साईड देनी चाहिए ?

- | | | |
|---|--------|-------|
| 1 | Always | सदैव। |
| 2 | No | नहीं। |

- 3 Yes, If there is Green light. हाँ, यदि वहाँ हरी लाईट हो तो।
 4 No, If there is Red light. नहीं, यदि वहाँ लाल लाईट हो तो। Answer = 1

91 This sign represents :-

यह चिन्ह प्रदर्शित करता है :-


- 1 Students Prohibited. विद्यार्थी निषेध है।
 2 Pedestrians Permitted. पैदल-पथ-पार है।
 3 Pedestrians Prohibited. पदयात्री निषेध है।
 4 Parking Prohibited. पार्किंग निषेध है।



Answer = 3

92 Which Sign denotes "Steep Descent" ?

कौनसा चिन्ह बताता है कि आगे गहरा उतार/ढलान है ?



Answer = 4

93 Which Sign denotes "Height Limit" ?

कौनसा चिन्ह ऊँचाई की सीमा बताता है ?



Answer = 2

94 Which Sign denotes "Parking-Scooters and Motor Cycles" ?

कौनसा चिन्ह बताता है कि स्कूटर एवं मोटरसाईकिल की पार्किंग है ?



Answer = 4

95 Which Sign denotes "Maximum Speed Limit" ?

कौनसा चिन्ह बताता है कि यह अधिकतम गति सीमा है ?



Answer = 3

96 Which Sign denotes "No Parking" ?


कौनसा चिन्ह बताता है कि नो पार्किंग है ?



Answer = 2

97 Which Sign denotes "Compulsory Turn Left" ?

कौनसा चिन्ह बताता है कि बाये मुडना जरूरी है ?



Answer = 4

98 Which Sign denotes "Left Hair Pin Bend" ?

कौनसा चिन्ह बताता है कि बायां चिमटा मोड है ?



Answer = 3

99 Cautionary signs are exhibited in ?

चेतावनी सड़क चिन्ह निम्न में से प्रदर्शित किये जाते है ?



Answer = 3

100 This sign represents :-

यह चिन्ह प्रदर्शित करता है :-

- | | | |
|---|--------------------------------|--|
| 1 | No- Entry | प्रवेश निषेध है। |
| 2 | Compulsory Ahead Or Turn Left | आगे बढ़ना या बायें मुड़ना अनिवार्य है। |
| 3 | Entry in both direction | दोनों ओर से प्रवेश है। |
| 4 | Compulsory Ahead Or Turn Right | आगे बढ़ना या दायें मुड़ना अनिवार्य है। |



Answer = 2

101 Minimum age required to get a commercial driving licence :-

व्यावसायिक वाहन के ड्राइविंग लाइसेन्स के लिए न्यूनतम आयु सीमा है :-

- | | | |
|---|----------|----------|
| 1 | 18 Years | 18 वर्ष। |
| 2 | 21 Years | 21 वर्ष। |
| 3 | 20 Years | 20 वर्ष। |
| 4 | 16 Years | 16 वर्ष। |

Answer = 3

102 This sign represents :

यह चिन्ह प्रदर्शित करता है :-

- | | | |
|---|---------------------|---------------------|
| 1 | Drainage In Middle. | मध्य में नाली है। |
| 2 | Bridge Ahead. | आगे पुल है। |
| 3 | Gap In Median. | बीच में अन्तराल है। |
| 4 | All of Above. | उपरोक्त सभी। |



Answer = 3

103 This sign represents :-

यह चिन्ह प्रदर्शित करता है :-

- | | | |
|---|------------------------|--------------------------|
| 1 | Horn Prohibited. | हॉर्न बजाना निषेध है। |
| 2 | Compulsory sound horn. | हॉर्न बजाना अनिवार्य है। |
| 3 | School Ahead. | आगे विद्यालय है। |
| 4 | Hospital Ahead. | आगे अस्पताल है। |



Answer = 1

104 If any pedestrian is crossing the road without pedestrian crossing, what will you do ?

यदि कोई पैदल यात्री बिना "पैदल-पार-पथ" की लाईन से सड़क पार कर रहा है, तो आप क्या करेंगे ?

- | | | |
|---|---|--|
| 1 | You will stop the vehicle till the pedestrian crosses the road. | पैदल यात्री के निकलने तक वाहन रोक लेंगे। |
| 2 | You will carefully drive the vehicle. | सावधानी से वाहन निकालेंगे। |

3 Warning the pedestrian you will drive the vehicle at slow speed. पैदल यात्री को वार्निंग देते हुए कम स्पीड पर वाहन निकालेंगे।

4 You should do nothing from above इनमें से कुछ नहीं करेंगे।

Answer = 1

105 This signal represents :-

यह सिग्नल प्रदर्शित करता है :-

- 1 To stop vehicles coming from front. आगे से आने वाले वाहनों को रोकने के लिए।
- 2 To stop vehicles approaching from behind. पीछे से आने वाले वाहनों को रोकने के लिए।
- 3 To stop vehicles approaching simultaneously from front and behind. आगे और पीछे। दोनों ओर से आने वाले वाहनों को रोकने के लिए।
- 4 None of Above. इनमें से कोई नहीं।



Answer = 3

106 This sign represents :-

यह चिन्ह प्रदर्शित करता है :-

- 1 Drive the vehicle not exceeding 50 KM/hr. 50 कि.मी./घण्टा की गति से ऊपर वाहन न चलायें।
- 2 Drive the vehicle at 50 KM/hr. 50 कि.मी./घण्टा की गति से वाहन चलायें।
- 3 Drive the vehicle exceeding 50 KM/hr. 50 कि.मी./घण्टा की गति से ऊपर वाहन चलायें।
- 4 None of Above. इनमें से कोई नहीं।



Answer = 1

107 Which Sign denotes "Steep Ascent" ?

कौनसा चिन्ह बताता है कि आगे खड़ी चढ़ाई है ?



Answer = 2

108 Which Sign denotes "Hump or Rough Road" ?

कौनसा चिन्ह बताता है कि आगे का रास्ता उबड़-खाबड़ है ?



Answer = 4

109 Which Sign denotes "Public Telephone" ?

कौनसा चिन्ह बताता है कि आगे टेलीफोन सुविधा है ?



Answer = 2

110 Which Sign denotes "Restriction Ends" ?

कौनसा चिन्ह बताता है कि प्रतिबन्ध समाप्त हो गये हैं ?



Answer = 1

111 Which Sign denotes "Hand Carts Prohibited" ?

कौनसा चिन्ह बताता है कि हाथ गाड़ी का प्रवेश वर्जित है ?



Answer = 1

112 Which Sign denotes "Loose Gravel" ?

कौनसा चिन्ह बताता है कि आगे बजरी पड़ी हुई है ?



Answer = 2

113 Which Sign denotes "Length Limit" ?

कौनसा चिन्ह वाहन की लम्बाई से सम्बन्धित है ?



Answer = 1

114 Informative signs are exhibited in ?

सूचनात्मक सड़क चिन्ह किसमें प्रदर्शित किये जाते है ?



Answer = 2

115 This sign represents :-

यह चिन्ह प्रदर्शित करता है :-

- | | | |
|---|------------------------|-----------------------------|
| 1 | Stop on the left side | बायीं ओर रूके । |
| 2 | Compulsory keep left | बायीं ओर चलना अनिवार्य है । |
| 3 | Turn left | बायें मुड़े । |
| 4 | Stop on the right side | दायीं ओर रूके । |



Answer = 2

116 Minimum age required to get a driving licence for LMV :-

हल्का मोटर वाहन के ड्राइविंग लाइसेन्स के लिए न्यूनतम आयु सीमा है :-

- | | | |
|---|----------|-----------|
| 1 | 16 Years | 16 वर्ष । |
| 2 | 18 Years | 18 वर्ष । |
| 3 | 20 Years | 20 वर्ष । |
| 4 | 22 Years | 22 वर्ष । |

Answer = 2

117 This sign represents :-

यह चिन्ह प्रदर्शित करता है :-

- | | | |
|---|------------------------|-------------------|
| 1 | Stop. | रूकिये । |
| 2 | No Parking | पार्किंग निषेध । |
| 3 | Give Way. | रास्ता दीजीए । |
| 4 | Overtaking Prohibited. | ओवरटेकिंग निषेध । |



Answer = 1

118 This sign represents :-

यह चिन्ह प्रदर्शित करता है :-

- | | | |
|---|-------------------------------|-----------------------|
| 1 | Roads on both sides in front. | आगे दोनों ओर सड़क है। |
| 2 | Narrow bridge ahead. | आगे सकडा पुल है। |
| 3 | Narrow road ahead. | आगे रास्ता सकडा है। |
| 4 | Restriction Ends. | प्रतिबन्ध समाप्त। |



Answer = 2

119 If you want to change your lane while driving, what will you do ?

यदि आप वाहन चलाते समय अपनी लेन बदलना चाहें तो क्या करेंगे ?

- | | | |
|---|--|--|
| 1 | Indicate by hand or light signals and changes the lane. | सही प्रकार लाईट अथवा हाथ से संकेत देते हुए लेन बदलेगें। |
| 2 | Indicate by hand and light signals then changes the lane, when you feel safe to do so. | सही प्रकार लाईट एवं हाथ से संकेत करेंगे एवं सुरक्षित महसूस करने पर ही लेन बदलेगें। |
| 3 | Not change the lane as it is against rules. | नियमों के विपरीत होने के कारण लेन नहीं बदलेगें। |
| 4 | Nothing from above | इनमें से कुछ नहीं करेंगे। |

Answer = 2

120 Is it necessary to stop at red light ?

लाल बत्ती होने पर रूकना आवश्यक है।

- | | | |
|---|------------------------|---------------------|
| 1 | Always | सदैव |
| 2 | Never | कभी नहीं। |
| 3 | During Day Time Only | केवल दिन के समय। |
| 4 | During Night Time Only | केवल रात्रि के समय। |

Answer = 1

121 This sign represents :-

यह चिन्ह प्रदर्शित करता है :-

- | | | |
|---|-------------------------|--------------------------------------|
| 1 | End of Restriction | प्रतिबन्ध समाप्त। |
| 2 | No Stopping or Standing | वाहन रोकना एवं खड़ा करना निषेधित है। |
| 3 | No Parking | निषेधित है। |
| 4 | No Entry | प्रवेश निषेध है। |



Answer = 2

122 Which Sign denotes "Pedestrian Crossing"?

कौनसा चिन्ह बताता है कि यह पैदल-पथ-पार है ?



Answer = 3

123 Which Sign denotes "Barrier Ahead" ?

कौनसा चिन्ह बताता है कि आगे बैरियर (अवरोधक) है ?



Answer = 1

124 Which is the Sign of "No Entry" ?

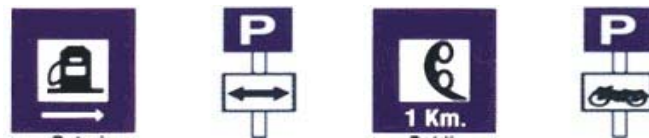
कौनसा चिन्ह बताता है कि प्रवेश निषेध है ?



Answer = 2

125 Which Sign denotes "Petrol Pump" ?

कौनसा चिन्ह बताता है कि आगे पेट्रोल पम्प है ?



Answer = 1

126 Which Sign denotes "Gap In Median" ?


कौनसा चिन्ह बताता है कि बीच में अन्तराल है ?



Answer = 3

127 Which Sign denotes "Compulsory Ahead or Turn Right" ?

कौनसा चिन्ह बताता है कि सीधा या दायें मुड़ना जरूरी है ?



Answer = 1

128 Validity of (P.U.C.C.) Pollution Under Control Certificate :-

प्रदूषण प्रमाण पत्र की वैधता होती है :-

- | | | |
|---|----------|----------|
| 1 | 6 Months | 6 माह । |
| 2 | 1 Year | 1 वर्ष । |
| 3 | 2 Years | 2 वर्ष । |
| 4 | 3 Years | 3 वर्ष । |

Answer = 1

129 Which Sign denotes Both Side Parking ?

कौनसा चिन्ह बताता है कि दोनों ओर पार्किंग कर सकते है ?



Answer = 3

130 This sign represents :-

यह चिन्ह प्रदर्शित करता है :-

- | | | |
|---|------------------|----------------------|
| 1 | Right ascend | दायीं ओर चढ़ायी है । |
| 2 | Right hand curve | दायीं ओर घुमाव है । |
| 3 | Keep right | दायें चलिए । |
| 4 | Left hand curve | बायीं ओर घुमाव है । |



Answer = 2

131 Validity of vehicle insurance is :-

वाहन के बीमा की वैधता होती है :-

- | | | |
|---|---------|----------|
| 1 | 6 month | 6 माह । |
| 2 | 1 Year | 1 वर्ष । |
| 3 | 2 Year | 2 वर्ष । |
| 4 | 3 Year | 3 वर्ष । |

Answer = 2

132 This sign represents :-

यह चिन्ह प्रदर्शित करता है :-

- | | | |
|---|------------------------------|----------------------------------|
| 1 | Keep Left | बायें चले । |
| 2 | There is no road to the left | बायीं ओर के लिए रास्ता नहीं है । |
| 3 | Compulsory turn left | बायें मुड़ना अनिवार्य है । |
| 4 | Compulsory turn right | दायें मुड़ना अनिवार्य है । |



Answer = 3

133 This sign represents :-

यह चिन्ह प्रदर्शित करता है :-

- | | | |
|---|----------------|--------------------------|
| 1 | First aid post | प्राथमिक चिकित्सा चौकी । |
| 2 | Resting place | आराम करने की जगह । |
| 3 | Hospital | अस्पताल । |
| 4 | Petrol Pump | पेट्रोल पम्प । |



Answer = 3

134 If you have learner licence what will you do for learning the driving ?

यदि आपके पास लर्निंग लाईसैन्स है, तो आप ड्राइविंग सीखने हेतु क्या करेंगे ?

- | | | |
|---|---|---|
| 1 | You will drive only in day light. | वाहन सिर्फ दिन के उजाले में ही चलाएंगे । |
| 2 | You will drive when a trained driver sitting with you, who have valid driving licence also. | वाहन किसी प्रशिक्षित चालक के पास में बैठे होने पर ही चलायेंगे, जिसके पास वैध ड्राइविंग लाईसैन्स भी हो । |
| 3 | You will practice where there is very low traffic. | वहीं प्रैक्टिस करेंगे, जहाँ यातायात का दबाव कम हो । |
| 4 | None of above | इनमें से कोई नहीं । |

Answer = 2

135 To cross the road should pedestrian crossing be used ?

सड़क पार करने के लिए पैदल-पार-पथ का उपयोग करना चाहिए ।

- | | | |
|---|---------------|---------------------------|
| 1 | Always | हमेशा |
| 2 | Never | कभी नहीं । |
| 3 | Sometimes | कभी-कभी । |
| 4 | None of Above | उपरोक्त में से कोई नहीं । |

Answer = 1

136 This sign represents :-

यह चिन्ह प्रदर्शित करता है :-

- | | | |
|---|----------------------------|------------------------------|
| 1 | One- Way | एक तरफा प्रवेश निषेध है। |
| 2 | Compulsory Ahead | सीधा जाना अनिवार्य है। |
| 3 | Entry in both direction | दोनों ओर से प्रवेश है। |
| 4 | No Entry in both direction | दोनों ओर से प्रवेश निषेध है। |



Answer = 2

137 Which Sign denotes "Narrow Bridge" ?

कौनसा चिन्ह बताता है कि आगे संकड़ी पुलिया है ?



Answer = 2

138 Which Sign denotes "Dangerous Dip" ?

कौनसा चिन्ह बताता है कि आगे खतरनाक खाई है ?



Answer = 2

139 Which Sign denotes "Vehicles are Prohibited in Both Direction" ?


कौनसा चिन्ह बताता है कि वाहनों का आना व जाना दोनों मना है ?



Answer = 3

140 Which Sign denotes "Unguarded Railway Crossing 50-100 Meters" ?

कौनसा चिन्ह बताता है कि बिना फाटक वाला रेलवे क्रॉसिंग 50-100 मीटर की दूरी पर है ?



Answer = 1

141 Which Sign denotes "Right Hand Curve" ?

कौनसा चिन्ह बताता है कि दाहिने तरफ का मोड़ है ?



Answer = 2

142 Which Sign denotes "Compulsory Ahead or Turn Left" ?

कौनसा चिन्ह बताता है कि सीधा या बायें मुड़ना जरूरी है ?



Answer = 2

143 Which Sign denotes "Bullock Carts Prohibited" ?

कौनसा चिन्ह बताता है कि जानवर गाडी निषेध है ?



Answer = 4

144 Which Sign denotes "One Way Traffic" ?

कौनसा चिन्ह बताता है कि एक तरफा यातायात है ?



Answer = 2

145 This sign represents :-

यह चिन्ह प्रदर्शित करता है :-

1 Left hand curve

बायीं ओर घुमाव है।

2 Left ascend

बायीं ओर चढ़ायी है।



- 3 Keep Left बायें चलिए ।
4 Keep Right दायें चलिए ।



Answer = 1

146 Which Sign denotes "Speed Limit" ?

कौनसा चिन्ह गति सीमा बताता है ?



Answer = 2

147 The colour of number plate of private vehicle is :-

निजी वाहन की नम्बर प्लेट का रंग होता है :-

- 1 Black background with yellow letter & number काली पृष्ठभूमि पर पीले रंग के अक्षर व अंक ।
2 Yellow background with black letter & number पीली पृष्ठभूमि पर काले रंग के अक्षर व अंक ।
3 White background with black letter & number सफेद पृष्ठभूमि पर काले रंग के अक्षर व अंक ।
4 Black background with white letter & number काली पृष्ठभूमि पर सफेद रंग के अक्षर व अंक ।

Answer = 3

148 This sign represents :-

यह चिन्ह प्रदर्शित करता है :-

- 1 Give Way रास्ता दीजिए ।
2 Stop रूकिये ।
3 Traffic is ahead आगे यातायात है ।
4 Parking पार्किंग ।



Answer = 1

149 This sign represents :-

यह चिन्ह प्रदर्शित करता है :-

- 1 Hospital अस्पताल ।
2 Resting place आराम करने की जगह ।
3 First aid post प्राथमिक चिकित्सा चौकी ।
4 Petrol Pump पेट्रोल पम्प ।



Answer = 2

150 What will you do while approaching main/major road ?

यदि आप किसी छोटे रास्ते से मुख्य सड़क पर आ रहे हैं, तो आप क्या करेंगे ?

- 1 Stop the vehicle and looking both sides of the main road, then after feeling safe you will come on the main road. आप गाड़ी रोककर मुख्य सड़क के दोनों ओर देखेंगे एवं सुरक्षित लगने पर ही मुख्य सड़क पर आएंगे।
- 2 You will carefully come on main road. आप सावधानी से मुख्य सड़क पर आ जाएंगे।
- 3 If the clear you will come on the main road without decreasing the speed. यदि रास्ता साफ है, तो आप बिना स्पीड कम किये मुख्य सड़क पर आ जाएंगे।
- 4 You should do nothing from above इनमें से कुछ भी नहीं करेंगे।

Answer = 1